

# UJIAN AKHIR SESI AKADEMIK

## Tingkatan 3

### Sejarah [21]

2 jam

Nama	
No. Kad Pengenalan	
Kelas	

#### ARAHAN:

1. Buka kertas ujian ini apabila diberitahu.
2. Tulis nama, nombor kad pengenalan dan nama kelas anda pada ruang yang disediakan.
3. Jawapan anda hendaklah ditulis pada ruang jawapan yang disediakan di dalam kertas ujian ini.
4. Kertas ujian ini hendaklah diserahkan kepada guru bertugas pada akhir ujian.

Untuk Kegunaan Pemeriksa			
Nama Pemeriksa:			
Bahagian	Soalan	Markah Penuh	Markah Diperoleh
A	1 – 20	20	
B	1	10	
	2	10	
	3	10	
	4	10	
C	1	20	
	2	20	
Jumlah		80	

**Bahagian A**  
[20 markah]  
Jawab semua soalan.

1. Apakah negeri yang mengamalkan sistem pemerintahan berikut?

Sistem pemerintahan tradisional		
Sistem Kesukuan	Sistem Kesultanan	Sistem Ketua Bebas

- A Sabah
- B Sarawak
- C Kelantan
- D Negeri Sembilan

2. Senarai berikut menunjukkan sistem timbangan yang digunakan oleh masyarakat Melayu tradisional.

- Saga
- Mayam
- Bungkal

Apakah barang dagangan yang ditimbang menggunakan sistem timbangan tersebut?

- A Emas
- B Arang batu
- C Rempah-ratus
- D Sayur-sayuran

3. Apakah peristiwa yang dimanipulasikan oleh Stamford Raffles untuk membolehkan beliau menduduki Singapura?



- A Lokasi Singapura
- B Kemerosotan Johor
- C Kelemahan Belanda
- D Pewarisan takhta Johor

4. Maklumat berikut berkaitan dengan Majlis Perundangan Negeri-negeri Selat.

Mohammad Eunus Abdullah merupakan orang Melayu pertama dilantik menganggotai Majlis Perundangan Negeri-negeri Selat.

Apakah peranan Majlis Perundangan tersebut?

- A Mengutip cukai negeri
- B Meluluskan undang-undang
- C Menguruskan hal pentadbiran
- D Menyelesaikan masalah orang Melayu

5. Apakah hasil yang dilombong di Jugra dan Lukut?

- A Emas
- B Perak
- C Bauksit
- D Bijih timah

6. Apakah kesan Perjanjian Pangkor terhadap pentadbiran Perak?

- A Sultan diturunkan takhta
- B British menguasai pungutan cukai
- C Warisan Kesultanan Perak runtuh
- D Menjadi tanah jajahan mahkota British

7. Apakah faktor pembentukan Negeri-negeri Melayu Bersekutu 1896?

- I Menyeragamkan pentadbiran
  - II Mengatasi kelemahan Sistem Residen
  - III Memelihara kedudukan Raja-raja Melayu
  - IV Memajukan ekonomi negeri-negeri Melayu
- A I dan II
  - B I dan IV
  - C II dan III
  - D III dan IV

8. Apakah aspek pemodenan yang diperkenalkan oleh Maharaja Abu Bakar di Johor?
- I Pengukuhan ekonomi
  - II Pembahagian wilayah
  - III Kemajuan pelancongan
  - IV Sistem pentadbiran moden
- A I dan II                      C II dan III  
B I dan IV                      D III dan IV
9. Bagaimanakah pihak British menghadapi perkembangan berikut?
- Kuasa Eropah seperti Jerman, Perancis dan Rusia cuba meluaskan kuasanya di Negeri-negeri Melayu Utara.
- A Memperbesar angkatan laut  
B Menguasai negeri-negeri Melayu  
C Melaksanakan konsep Beban Orang Putih  
D Membentuk pakatan dengan Raja Melayu
10. Apakah yang hendak dicapai oleh British melalui Perjanjian Sulit 1897?
- A Memajukan ekonomi
  - B Mewujudkan keamanan
  - C Menetapkan sempadan negeri
  - D Mengukuhkan hubungan dengan Siam
11. Mengapakah wujud pemerintahan Ketua Bebas di Sabah?
- A Reaksi kepada kedatangan kuasa Barat
  - B Warisan pemerintahan Kesultanan Brunei
  - C Kelemahan pengaruh Kesultanan Brunei dan Sulu
  - D Peningkatan kuasa dan pengaruh pembesar tempatan
12. Apakah muslihat James Brooke membantu Pengiran Raja Muda Hashim menamatkan kebangkitan di Sarawak?
- A Menguasai Sarawak
  - B Menegakkan keadilan
  - C Memelihara keamanan
  - D Menjalinkan hubungan
13. Mengapakah ekonomi moden memperlihatkan pengeluaran dalam skala yang besar?
- A Berorientasikan eksport
  - B Menjamin pasaran tempatan
  - C Menggunakan tanah yang luas
  - D Melibatkan tenaga buruh yang ramai
14. Apakah tujuan Land Settlement Order 1933 dikuatkuasakan oleh kerajaan Brooke di Sarawak?
- A Menjaga hak istimewa peribumi
  - B Melindungi kepentingan pelabur British
  - C Memudahkan urusan pentadbiran tanah
  - D Memelihara kepentingan keluarga Brooke
15. Mengapakah tindakan British membina balai polis di Lubuk Terua menimbulkan kemarahan Dato' Bahaman?
- A Pembinaan balai polis membazir
  - B Kuasa beliau sebagai pembesar tercabar
  - C Lubuk Terua tidak memerlukan balai polis
  - D Melucut jawatan beliau sebagai Orang Kaya
16. Apakah persamaan faktor penentangan Dol Said dan Tok Janggut?
- A Kutipan cukai
  - B Perundangan
  - C Layanan buruk
  - D Kehilangan jawatan

17. Mengapakah penduduk di Pasir Puteh, Kelantan sukar untuk membayar cukai?
- I Kadar cukai yang tinggi
  - II Pejabat bayaran terletak jauh
  - III Waktu operasi pejabat tidak sesuai
  - IV Tidak memahami tujuan cukai dikenakan
- A I dan II  
B I dan IV  
C II dan III  
D III dan IV
18. Mengapakah gerakan kebangkitan masyarakat tempatan menentang kuasa British menemui kegagalan?
- A Kelemahan strategi
  - B Hubungan British-Belanda
  - C Rakyat tidak bersatu hati
  - D Tidak mendapat sokongan
19. Mengapakah Sultan Abdul Hamid Halim Shah (1882 – 1943) digelar “Bapa Kedah Moden”?
- A Melaksanakan pembangunan
  - B Memelihara kedaulatan negeri
  - C Mewujudkan perpaduan rakyat
  - D Mengamalkan sistem birokrasi Barat

20. Gambar menunjukkan Sultan Muhammad II



Apakah faktor yang menyebabkan baginda diturunkan takhta negeri Terengganu?

- A Pemerintahan baginda kurang cekap
- B Menghalang dasar British di Terengganu
- C Terengganu enggan menerima Penasihat British
- D Penerimaan Penasihat British dianggap bertentangan dengan adat Melayu

**Bahagian B**

[40 markah]

Jawab semua soalan.

1. Maklumat berikut berkaitan dengan Perjanjian London 1824.

<b>Tarikh</b>	17 Mac 1824
<b>Tempat</b>	London, England
<b>Pihak terlibat</b>	British dan Belanda
<b>Kandungan perjanjian</b>	Wilayah pengaruh, kewangan dan perdagangan

Untuk  
Kegunaan  
Pemeriksa

- (a) Nyatakan **tiga** kesan Perjanjian London 1824 terhadap Alam Melayu.

- (i) \_\_\_\_\_  
\_\_\_\_\_
- (ii) \_\_\_\_\_  
\_\_\_\_\_
- (iii) \_\_\_\_\_  
\_\_\_\_\_

[3 markah]

- (b) Nyatakan **tiga** faktor yang membolehkan British menguasai Selat Melaka pada abad ke-19.

- (i) \_\_\_\_\_
- (ii) \_\_\_\_\_
- (iii) \_\_\_\_\_

[3 markah]

- (c) Jelaskan iktibar yang diperolehi daripada Perjanjian London 1824.


- \_\_\_\_\_
- \_\_\_\_\_
- \_\_\_\_\_
- \_\_\_\_\_
- \_\_\_\_\_

[4 markah]



Untuk  
Kegunaan  
Pemeriksa

2. Gambar berikut berkaitan dengan Negeri-negeri Melayu Bersekutu yang juga dikenali sebagai Persekutuan 1896.



(a) Jelaskan **tiga** ciri utama pentadbiran Persekutuan 1896.

- (i) \_\_\_\_\_
- (ii) \_\_\_\_\_
- (iii) \_\_\_\_\_

[3 markah]

(b) Nyatakan **tiga** faktor British membentuk Persekutuan 1896.

- (i) \_\_\_\_\_
- (ii) \_\_\_\_\_
- (iii) \_\_\_\_\_

[3 markah]

(c) Terangkan usaha yang dapat dilakukan oleh rakyat bagi memastikan kuasa Raja-raja Melayu tidak terhakis dalam Persekutuan 1896.

\_\_\_\_\_

\_\_\_\_\_

\_\_\_\_\_

\_\_\_\_\_

\_\_\_\_\_

\_\_\_\_\_

[4 markah]

4. Gambar berikut menunjukkan Durbar di Kuala Lumpur pada tahun 1903.



(a) Nyatakan **tiga** tuntutan yang dikemukakan oleh Raja-raja Melayu kepada British dalam Durbar pada tahun 1903.

- (i) \_\_\_\_\_
- (ii) \_\_\_\_\_
- (iii) \_\_\_\_\_

[3 markah]

(b) Jelaskan **tiga** usaha pemerintah dan pembesar negeri Kedah mempertahankan hak dan identiti negeri selepas pengenalan Sistem Penasihat.

- (i) \_\_\_\_\_  
\_\_\_\_\_
- (ii) \_\_\_\_\_  
\_\_\_\_\_
- (iii) \_\_\_\_\_  
\_\_\_\_\_

[3 markah]

(c) Pada pendapat anda, apakah kepentingan usaha mempertahankan identiti negara?

\_\_\_\_\_

\_\_\_\_\_

\_\_\_\_\_

\_\_\_\_\_

\_\_\_\_\_

[4 markah]



### Bahagian C

[20 markah]

Jawab mana-mana **satu** soalan daripada bahagian ini.

Untuk  
Kegunaan  
Pemeriksa

(a) Jelaskan penentangan Sharif Masahor di Sarawak dari aspek berikut:

(i) Sebab penentangan

---

---

[3 markah]

(ii) Peristiwa penentangan

---

---

[3 markah]

(b) Terangkan peristiwa penentangan Haji Abdul Rahman Limbong di Terengganu.

---

---

---

---

---

---

---

[6 markah]

(c) Pada pendapat anda, apakah kesan jika rakyat Malaysia tidak memiliki semangat nasionalisme yang mendalam?

---

---

---

---

---

---

---

[8 markah]





Untuk  
Kegunaan  
Pemeriksa

2. (a) Jelaskan peluasan kuasa British di Perlis, Kedah, Kelantan dan Terengganu berdasarkan faktor berikut:

(i) Menghalang kemasukan kuasa Barat lain

---



---



---

[3 markah]

(ii) Kemakmuran dan kekayaan sumber hasil

---





---



---

[3 markah]

(b) Berdasarkan gambar berikut, terangkan rentetan peristiwa Perjanjian Bangkok 1909.

 <p>THAMMABHEDI No. 10 1909</p> <p>TREATY</p> <p>BETWEEN</p> <p>HIS MAJESTY KING GEORGE V AND KING</p> <p>CHULALONGKORNOJ OF SIKHOT</p> <p>(Signature: London, July 26, 1909)</p> <p>(Text: Part I)</p>	
<i>Perjanjian Bangkok 1909</i>	<i>Putera Devawongse Varaprakar</i>

---



---



---



---



---



---



---



---



---



---

[6 markah]

