

Ujian Akhir Tahun
Dunia Sains dan Teknologi Tahun 1

Nama : _____

Kelas : _____

Soalan 1 hingga 13 bulatkan jawapan yang betul.



1. Apakah haiwan ini ?

- A. Tupai C. kucing
B. Tikus

2. Antara haiwan berikut yang manakah mempunyai sesungut ?

- A. Cacing C. sotong
B. Siput

3. Haiwan manakah yang berbunyi dengan cara mengiau ?

- A. Kucing C. burung
B. Harimau

4. Haiwan manakah yang bergerak dengan cara berenang ?

- A. Katak C. ular
B. Ikan

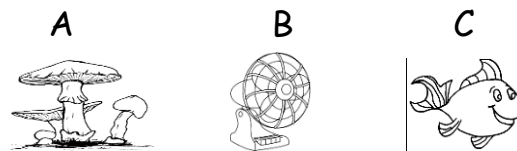
5. Buah durian mempunyai.....

- A. duri C. akar
B. daun

6. Bahan yang diperbuat daripada tumbuhan ialah

- A. sudu C. pisau
B. kertas

7. Antara berikut yang manakah benda bukan hidup



8.



Haiwan diatas mempunyai badan yang diliputi dengan.....

- A. sisik C. bulu
B. bulu pelepah

9. Haiwan di bawah mempunyai



- A. Sayap C. sirip
B. Tanduk.

10.



Buah di atas mempunyai rasa.....

- A. Manis C. tawar
B. Pedas

11. tenggelam dalam air.
- A. pisau C. gabus
- D. bulu pelepah

13. Rasa gula-gula adalah
- A pahit C. manis
- B masin

12. kita akan timbul apabila
- A. berpegang pada batu besar
- B. berpegang pada batang besi
- C. memakai jaket keselamatan

(26 markah)

A: Tandakan (/) pada benda hidup dan (X) pada benda bukan hidup.

1



2



3



4



5



6



7



8



9




10



11









12



(12 markah)

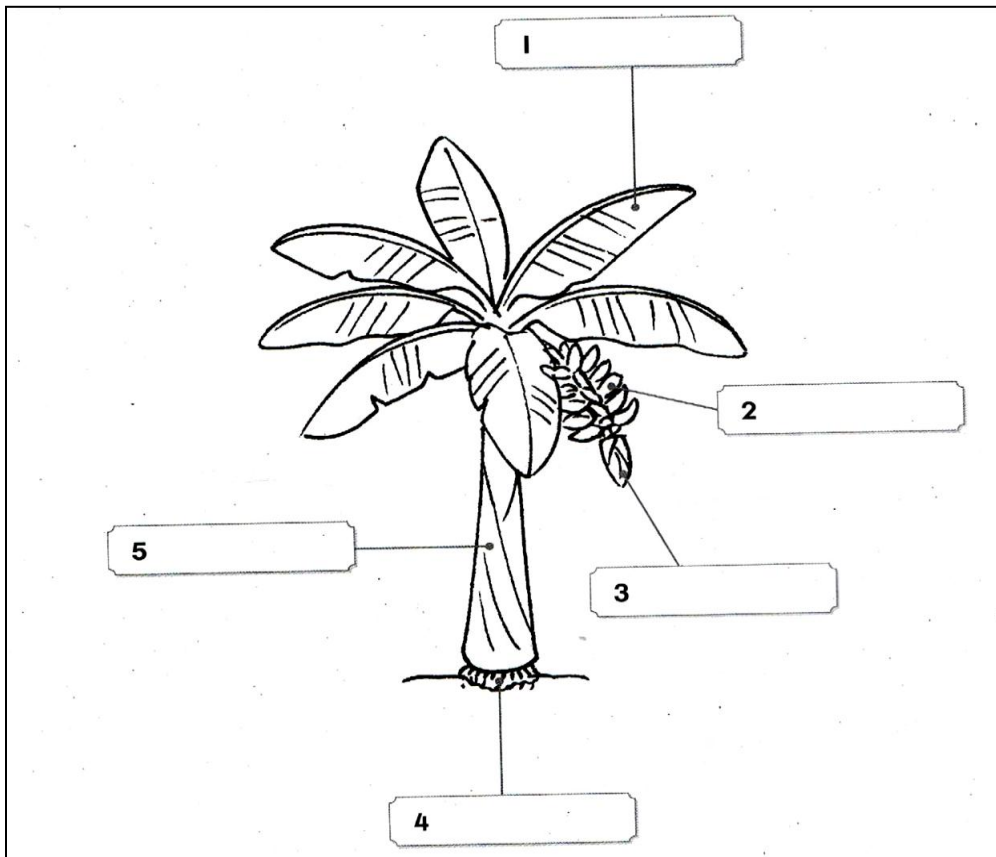
B. Namakan haiwan-haiwan berikut

1		2	
3		4	
5		6	

- Kucing
- Rama-rama
- Gajah
- Ikan
- Lipas
- siput


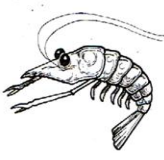
(12 markah)



C. Isi tempat kosong dengan jawapan yang sesuai





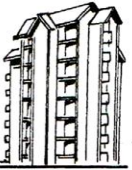

- bunga
 - daun
 - akar
 - buah
 - batang
- (10 markah)

D. Bulatkan perkataan yang betul.

1 (a)  (b) 
 besar kecil besar kecil





2 (a)  (b) 
 besar kecil besar kecil






3 (a)  (b) 
 tinggi rendah tinggi rendah

4 (a)  (b) 
 tinggi rendah tinggi rendah

(8 markah)

E. Kelaskan objek-objek di bawah mengikut ciri-ciri yang diberi.

 kicap  ais  garam  Matahari

 aiskrim  minyak wangi  epal  lilin  bunga ros

panas	sejuk	Wangi
masin	manis	warna merah

(12 markah)

F. Bulatkan objek berdasarkan ciri yang diberikan.

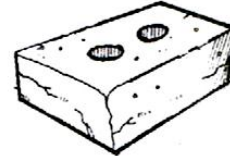
1 ringan



bas



kapas



bata

2 besar



badak



anjing



ular

3 panas



periuk nasi

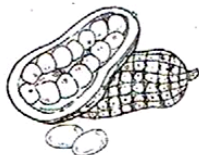


ais



jus oren

4 bau busuk



cepedak



syampu



sampah

(8 markah)

G. Warnakan objek yang tenggelam

kayu

bola golf

botol plastik

daun

bola

rod besi

duit syiling

sauh

bola yang diikat pada bata

batu kelikir

gabus

klip kertas yang diikat pada gabus