

Bahagian A:

1. Makanan yang manakah membantu tumbesaran kita?
 - A ikan
 - B nasi
 - C roti
 - D epal

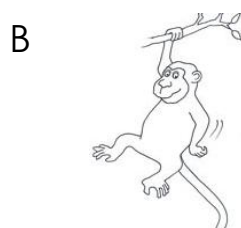
2. Antara haiwan-haiwan berikut, yang manakah makan tumbuhan sahaja?
 - A tikus
 - B ayam
 - C lipas
 - D gajah


3. Tikus di dalam botol bertutup rapat mati kerana kekurangan
 - A air
 - B udara
 - C makanan
 - D cahaya matahari

4. Antara haiwan berikut, yang manakah dipadankan kepada makanannya dengan betul?

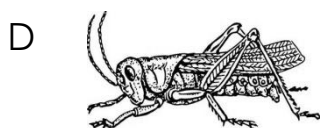
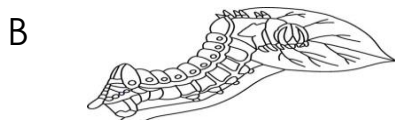
	Haiwan	Makanan
A	Cicak	Daun
B	Tupai	Buah
C	Kuda	Daging
D	Singa	Padi

5. Antara haiwan-haiwan berikut, yang manakah membuat sarang berupa lubang pada batang pokok?





6. Tempat perlindungan bagi kelawar ialah _____.
- A di dalam gua
 - B di celah batu
 - C di dahan pokok
 - D di dalam lubang tanah
7. Antara berikut, yang manakah tidak benar tentang kepentingan haiwan?
- A Sesetengah haiwan merupakan makanan bagi haiwan lain.
 - B Najis haiwan boleh dijadikan baja untuk tanaman.
 - C Haiwan boleh bekerja dengan lebih cekap daripada mesin.
 - D Sesetengah haiwan membantu menyebarkan biji benih.
8. Antara anak-anak haiwan berikut, yang manakah menyerupai ibunya?



9. Antara berikut, yang manakah akan membesar menjadi rama-rama?

A




B



C



D



10. _____ boleh berenang dan berjalan.

A itik

B ayam

C katak

D bangau

11. Antara berikut, manakah yang **tidak benar** tentang cara pergerakan haiwan?

A Semut – Merayap

B Lipan – Menjalar

C Cicak – Mengengsot

D Helang - Terbang

12.

Kuda berlari dengan pantas apabila dikejar oleh singa.

Berdasarkan pernyataan di atas, kuda belang bergerak untuk _____.

A mencari air

B mencari makanan


C mencari tempat perlindungan

D mengelakkan diri daripada bahaya

13. Apakah keperluan asas bagi tumbuhan untuk hidup subur?

- A Air, udara dan tanah
- B Air, baja dan cahaya matahari
- C Air, tanah dan cahaya matahari
- D Air, udara dan cahaya matahari

14. Rajah di bawah menunjukkan tumbuhan yang telah layu.



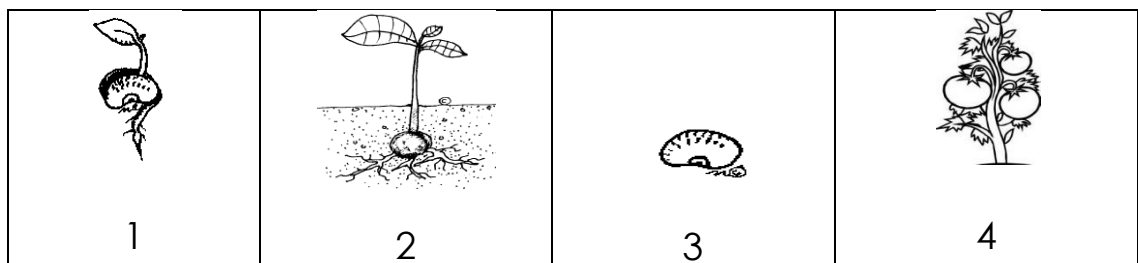
Apakah yang diperlukan oleh tumbuhan itu untuk hidup subur?

- A Tumbuhan itu memerlukan udara.
- B Tumbuhan itu memerlukan tanah.
- C Tumbuhan itu memerlukan makanan.
- D Tumbuhan itu memerlukan air.

15. Manakah yang berikut merupakan perubahan yang berlaku pada tumbuhan semasa membesar

- A ketinggian berkurang
- B ketinggian bertambah
- C bilangan daun berkurang
- D bilangan batang bertambah

16.



Susun gambar-gambar di atas mengikut urutan yang betul bagi menunjukkan tumbesaran tumbuhan.

- A 1 → 2 → 3 → 4
- B 2 → 3 → 1 → 4

- C 3 → 1 → 2 → 4
- D 4 → 2 → 1 → 3

17. Antara berikut, manakah yang dapat membekalkan cahaya?

- A tingkap
- B kelip-kelip
- C beg
- D kaca

18. _____ terang dan _____gelap.

- A Siang, malam
- B Hari cerah, hari hujan
- C Subuh, senja
- D Tengah hari, petang

19. Apabila cahaya terkena _____, tidak ada bayang-bayang terbentuk.

- A kaca
- B kerusi
- C pokok
- D pemadam

20.




S dikenali sebagai _____.

- A beruang
- B wayang kulit
- C tompok hitam
- D bayang-bayang

Bahagian B:

Gambar-gambar di bawah menunjukkan tumbesaran tumbuhan.







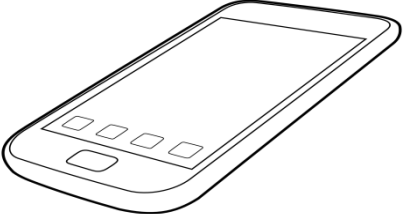
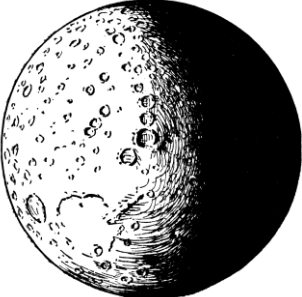
1. Lengkapkan jadual di bawah. (12 markah)

Hari	3	6	12
Bilangan Daun			
Ketinggian anak benih (bilangan jalur kertas)			

2. Isikan tempat kosong dengan jawapan yang betul. (4 markah)

Semasa tumbesaran, tumbuhan mengalami pertambahan
 _____ dan pertambahan bilangan
 _____.

Tandakan (√) pada objek yang boleh mengeluarkan cahaya dan (x) pada objek yang tidak boleh mengeluarkan cahaya. (12 markah)

 <input type="checkbox"/>	 <input type="checkbox"/>
 <input type="checkbox"/>	 <input type="checkbox"/>
 <input type="checkbox"/>	 <input type="checkbox"/>

Isikan tempat kosong dengan jawapan yang betul. (12 markah)

malam	melihat	objek	gelap	jelas	cahaya
-------	---------	-------	-------	-------	--------

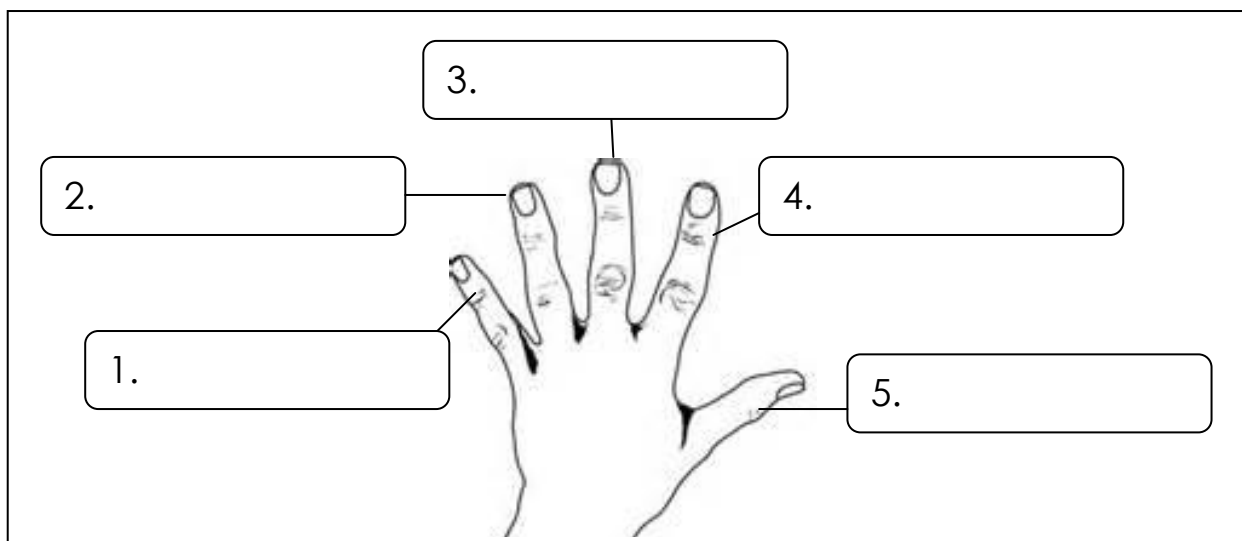
Cahaya sangat penting dalam hidup kita. Kita memerlukan cahaya untuk (1)_____. Cahaya membolehkan kita melihat pelbagai (2)_____ di sekeliling kita. Kita boleh melihat dengan (3)_____ apabila ada cahaya.

Cahaya boleh menerangi keadaan yang (4)_____. Cahaya lampu membantu kita melihat pada waktu (5)_____.

Tanpa (6)_____, kita sukar melakukan aktiviti dengan sempurna.

Namakan jari-jari dengan betul. (10 markah)

jari manis	ibu jari	jari kelengkeng
jari telunjuk	jari hantu	

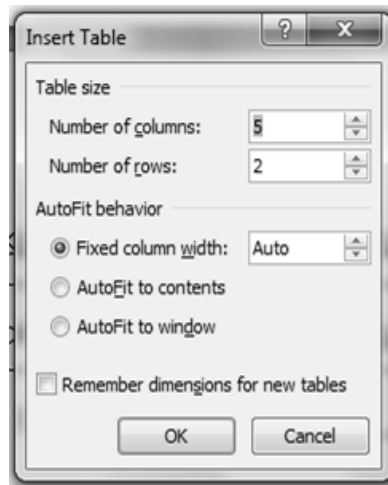


Lengkapkan langkah-langkah untuk membina jadual. (10 markah)

<i>Insert Table</i>	baris	lajur	OK	<i>MS Word</i>
---------------------	-------	-------	----	----------------

Langkah 1: Lancarkan (1)_____.

Langkah 2: Klik (2)_____. Kotak dialog *Insert Table* akan terpapar pada skrin.



Langkah 3: Taipkan jumlah (3)_____ pada ruang *Number of columns*.

Langkah 4: Taipkan jumlah (4)_____ pada ruang *Number of rows*.

Langkah 5: Klik (5)_____.

Disediakan oleh	NORAZLIN BINTI MOHD RUSDIN	
Disemak oleh	CIK CHAN WEI PENG (KETUA PANITIA SAINS)	
Disahkan oleh		

